


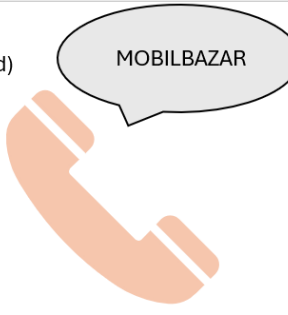


ŘEŠENÍ 4. SÉRIE

1. úloha: Mobil

<p>a)</p>  <p>302,-Kč sleva 200,-Kč</p>	<p>b)</p>  <p>107,-Kč sleva 50,-Kč</p>	<p>c)</p>  <p>100,-Kč sleva 10,-Kč</p>	<p>d)</p>  <p>52,-Kč</p>
--	---	---	---

Do prodejny přišli v pondělí 3 zákazníci - 2 zákazníci koupili každý typ c) .
V úterý přišlo 5 zákazníků - dva koupili každý mobil typ d) a jeden si vybral typ b).
Další přišli až ve čtvrtek. Pouze jeden zákazník koupil mobil typu a).
V pátek byl jen 1 zákazník a zakoupil typ b).

Autoři: Žáci 5. tříd

Kolik obchod utržil za celý týden, když slevu dává obchod pouze v pondělí a ve středu?

ŘEŠENÍ

Pondělí:	90 + 90
Úterý:	104 + 107
Čtvrtek:	302
Pátek:	107
Celkem:	800 Kč

2. úloha: Vajíčka

Adélka má košíček s vejci. Vejde se do něj 27 vajec. Má jich však jen 13. Kolik jich musí ještě koupit, aby měla plný košík? Kolik za ně zaplatí, když jedno vejce stojí 5 Kč.



Autor: Trojanová Ema 5.A

Řešení:

14 vajec jí bude stát 70 Kč.	13+14 = 27
Zbývá jí ještě dokoupit 14 vajec.	14.5 = 70

3. úloha: Bonbony

Lenka si koupila:



Tomáš si koupil stejně bonbonů jako Lenka.
Místo jedné hůlky si koupil dvě lízátka.
Kolik Tomáš zaplatil za svůj nákup?

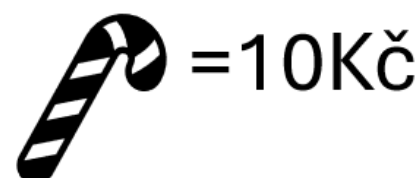
Lízátko:

Bonbon:

Hůlka

Řešení:

Lenka si koupila – 9. 3=27
4.4 = 16
10. 2 = 20
Celkem zaplatila: 63 Kč
Tomáš 16 Kč bonbony – stejně
10 Kč hůlka – jen jedna
45 Kč lízátka
Celkem 71,-Kč



(Autor: Kadlec Radek 5.A)

ŘEŠENÍ 4. SÉRIE

4. úloha: Teplota

TABULKA TÝDENNÍCH TEPLOT

	pondělí	úterý	středa	čtvrtek	pátek	sobota	neděle
teplota	-12°C	-6°C	1°C	-5°C	6°C	-7°C	2°C

1. Který den byla teplota nejmenší?
2. Který den byla teplota nejvyšší?
3. Jaký je rozdíl mezi nejmenší a největší teplotou?
4. Jaká je průměrná teplota za celý týden?

Autoři: žáci 5. tříd



Řešení:

1. Který den byla teplota nejmenší? **V pondělí.**
 2. Který den byla teplota nejvyšší? **V pátek.**
 3. Jaký je rozdíl mezi nejmenší a největší teplotou? **18°C**
 4. Jaká je průměrná teplota za celý týden? **-3°C**
-